

**Муниципальный этап республиканской олимпиады школьников
по истории татарского народа и Татарстана 2023–2024 учебный год.
9 класс**

Время для работы: 3,5 часа

Максимальное количество баллов: 130

Задание 1. Выберите несколько верных ответов из предложенных. 2 балла за правильный ответ. Максимум – 4 балла.

1.1. Какие из перечисленных событий относятся к правлению того же монарха, что и появление источника, фрагмент которого приведен?

... А как ты, Кучюмь царь, учинился в Сибирской земле царемъ, и ты отцу нашему[...] Ивану Васильевичю всеа Русии послушен былъ, и дань с Сибирские земли присылалъ; а отецъ нашъ [...], тебя в своемъ царскомъ жалованье держалъ подъ своею царскою висо[кою] рукою; а после того ты, Кучюмь царь, от отца нашего [...] и отъ его царского жалованья отсталъ [...], непослушникомъ учинился еси, и дани давати не почалъ еси, и сына боярского Третьяка Чебукова, который былъ посланъ для дани, убилъ еси, и на наши украинные места в Пермскую землю войною многижда приходил еси. [...]

А тобою ныне люди немногие [...] наше Царское жалованье и милостивое слово тебе объявляемъ, чтобы ты, Кучюмь царь, ехалъ к моему Царскому Величеству [...] и мы тебя пожалуемъ [...], устройте великие города и волостями и денежнымъ жалованьем, [...] похочешь быти на пр[еж]немъ своемъ юрте в Сибири [...], пожалуемъ на Сибирской з[емле] царемъ, и в нашемъ Царскомъ жалованье уч[нем] тебя держати милостиво.

- 1) Покорение Казани
- 2) Покорение Астрахани
- 3) Кончина Ермака Тимофеева
- 4) Образование Казанской Епархии
- 5) Грамота «О новокрещенных татарах, об отведении для них особых пашен и истреблении мечетей»
- 6) Еналеевское восстание

1.2. Назовите имя польского короля и московского князя, о которых упоминается в источнике.

От, Бож(ь)ю м(и)л(о)стью короля польского, великого кн(я)зя литовского, русского и кн(я)жати прусского, жомойтского и иныхъ, брату нашему Магъметъ Аминю ц(а)рю казаньскому. Поведаетъ тебе, брату нашему, и жакъ сели есмо на отчине нашоистольцохъ отца нашего на Коруне Полскои и на Великомъ кн(я)зстве Литовскомъ, великии кн(я)зь Московский безъ отповедне и безъ всякое причины вси свои люди въ слалъ отчизну нашу Великое кн(я)зство Литовское шкоды намъ чинити.

... И то тебе даемъ ведати через сеи наш листъ, и жхочемъ с тобою быти у братстве и в приязни. А на противку того неприятеля нашего московского хочемъ быти с тобою заодинъ.

- А) Сигизмунд I
- Б) Иван III
- В) Василий III
- Г) Василий II
- Д) Казимир
- Е) Август

Ответ:

1.1.	1.2

Задание 2. Какие из перечисленных выражений появились в период правления монарха, отраженного на приведенной иллюстрации. Максимум – 3 балла.



- 1) Система Ильминского
- 2) «Бездненское побоище»
- 3) «Гроза двенадцатого года»
- 4) Казанское ополчение
- 5) «Казанский заговор»
- 6) Государственная Дума

Ответ: _____

Задание 3. Установите соответствие между выражениями, годами и территориями. Обратите внимание, что в графе годы и территория есть лишний пункт. 2 балла за правильное соотнесение строки. Максимум – 10 баллов.

Выражения и события	Годы	Территория
«Великая замятня»	А) 1545-1552	I) Волжская Булгария
«Великая яса»	Б) 1359-1380	II) Казанское ханство
«Великая тишина»	В) Начало XIII	III) Монгольская империя
«Казанский заговор»	Г) 1328-1368	IV) Русь
«Казанские походы»	Д) Вторая половина XIXв.	V) Казанская губерния
	Е) Начало XII в.	VI) Золотая Орда

Ответ:

Выражения и события	1.	2.	3.	4.	5.
Годы					
Территория					

Задание 4. Найдите лишний, т.е. выбивающийся из принципа образования ряда. 2 балла за правильный ответ. Максимум – 4 балла.

4.1. «Казанские известия», «Казанский вестник», «Казанские губернские ведомости», «Казанский телеграф», «Вечерняя Казань»

Ответ: _____

4.2. Мечеть «Марджани», «Юнусовская» мечеть, «Апанаевская» мечеть, «Первая соборная» мечеть

Ответ: _____

Задание 5. Расположите в хронологической последовательности указы правителей и Сената.

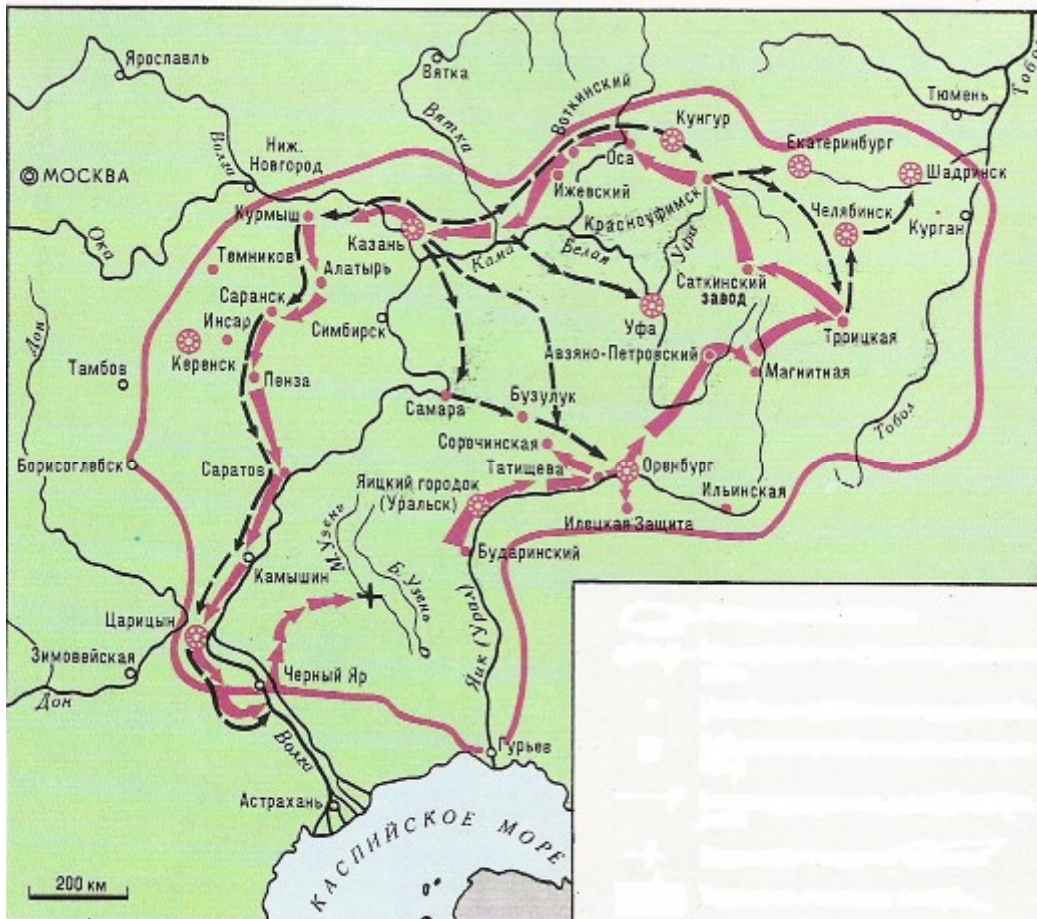
Одна ошибка 2 балла. Максимум – 3 балла за полностью правильный ответ.

- 1) Указ «О недопущении в Казанской губернии строить мечети...»
- 2) Указ «Об описи и взятии в казну крестьян православной веры у помещиков магометанского закона за невосприятие оными христианской веры»
- 3) Указ «О позволении Князьям и Мурзам татарским пользоваться всеми преимуществами Российского дворянства»
- 4) Указ «О крещении в Казанской и Азовской губерниях...»
- 5) Указ «О сломании самовольно казанскими татарами построенных мечетей»
- 6) Указ «О терпимости всех вероисповеданий...»

Ответ: _____

Задание 6. Рассмотрите схему и выберите верные суждения. Максимум – 8 баллов.

1. На схеме обозначен торговый путь от Каспийского моря
2. Данные действия происходили на территории Казанского ханства
3. Г.Державин лично участвовал в данных боевых действиях
4. В российскую историю показанные события вошли в историю как «национально-освободительная война»
5. В российскую историю показанные события вошли в историю как «крестьянская война»
6. П.Шуйский лично участвовал в данных боевых действиях
7. Современником событий, обозначенных на схеме, была Н.Дурова
8. В результате событий, обозначенных на схеме, прекратила существование Казанское ханство
9. О главном участнике этих событий, Василий Перов написал одну из своих картин
10. Современником событий, обозначенных на схеме, был Г.УтызИмяни



Ответ: _____

Задание 7. Выберите иллюстрации, на которых изображены события, которые произошли в период отраженных на схеме действиях. Максимум – 6 баллов.



3.



4.



5.



6.



7.



8.



Ответ:

Задание 8. Выберите портреты участников этих событий. Максимум – 6 баллов.

1.



2.



3.

4.



5.



6.



Ответ: _____

Задание 9. Выберите события из истории татарского народа, которые происходили в той же половине века, что и отраженные на схеме боевые действия. Максимум – 6 баллов.

1. Н.Дурова удостоилась Георгиевского креста
2. Вышел в свет первый в России печатный светский букварь татарского языка «Азбука татарского языка с обстоятельным описанием букв и складов»
3. «Черемисские войны»
4. Указ «О сломании самовольно казанскими татарами построенных мечетей»
5. Издана поэма Мухамедьяра «Тухваимардан»
6. Основана Казанская Епархия
7. Создан постоянный публичный театр
8. Издание первой провинциальной газеты в России – «Казанские ведомости»

Ответ: _____

Задание 10. Выберите изображения памятников архитектуры и назовите города (на схеме), в которых они расположены. Максимум – 12 баллов.

1.	2.
----	----



3.

4.



5.

6.



№	1.	2.	3.	4.	5.	6.
Название города (по схеме)						

Ответ:

Задание 11. Выберите фрагменты из исторических источников, в которых описаны события боевых действий, отраженных на схеме. Максимум – 6 баллов.

А) Народ, пригнанный в лагерь, поставлен был на колени перед пушками. Женщины подняли вой. Им объявили прощение. Все закричали: ура! и кинулись к его ставке. Он сидел в креслах, принимая дары казанских татар, приехавших к нему с поклоном. Потом спрашивали: кто желает служить государю Петру Федоровичу? - Охотников нашлось множество.

Б) «Во время то немногие из дворян с воеводским чином сохранили свою репутацию незапятнанной. Кривыми путями шли многие, прямыми – считанные единицы. Нижегородцам было трудно сделать выбор и не промахнуться. Они решили полагаться лишь на свой опыт и искать подходящего кандидата среди окрестных служилых людей, лично им известных».

В) «Въ лето 6885. <...> Того же лета перебежаиз Синие Орды за Волгу некоторый царевич именован Арапша, и въсхотеити ратью к Новугороду к Нижнему. Князь же ДмитрийКостянтинович посла вестъ къ зятю своему къ князю великому ДмитреюИвановичю. Князь же великий Дмитрийсъбравъ воя многы и прииде ратью к Новугороду к Нижнему въ силе тяжце».

Г) «От великого войска от ... Слово наше то – для бога и пророка и для государя и для войска, быть вам заодно. А буде заодно не будете, и вам бы не пенять после. Бог тому свидетель – ничево вам худова не будет, и мы за вас радеем. Да вам бы было ведомо: я, АсанАйбулатов сын, при ..., и вам бы нам в том поверить, я, Асан, в том вас наговариваю, и буде мне поверите, и вам худобы не будет. Да у всех вас прощаю – за нас богу помолитесь, а от нас вам челобитие.



Д) «И случилось так, что 15 августа, ранним утром, когда собирается торг, некий диакон-тверянин, – прозвище ему Дудко, – повел кобылицу...напоить водой в Волге. Татары же, увидев ее, отняли. Диакон же очень огорчился и стал вопить: «Люди тверские, не выдавайте!» И ударили во все колокола, стали вечем, и восстал город, и сразу же собрался весь народ»

Е) 12 го, на заре, потянулись от села Царицына по Арскому полю, двигая перед собоювозы сена и соломы, между коими везли пушки. Они быстро занялинаходившиеся близ предместья кирпичные сараи, рощу и загородныйдомКудрявцова, устроили там свои батареи и сбили слабый отряд, охранявший дорогу.

Ж) Все отряды, находившиеся в губерниях Казанской и Оренбургской, пришли в движение и устремлены были противнего. Щербатов из Бугульмы, а князь Голицын из Мензелинска поспешили в Казань; Меллин переправился через Волгу, и 19 говыступил из Свяжска; Мансуров из Яицкого городка двинулсяк Сызрани; Муфель пошел к Симбирску...

Ответ: _____

Задание 12. Определите названия городов, областей либо ханств, гербы которых представлены на изображениях. За каждое верное определение 2 балла. Максимум –10 баллов.

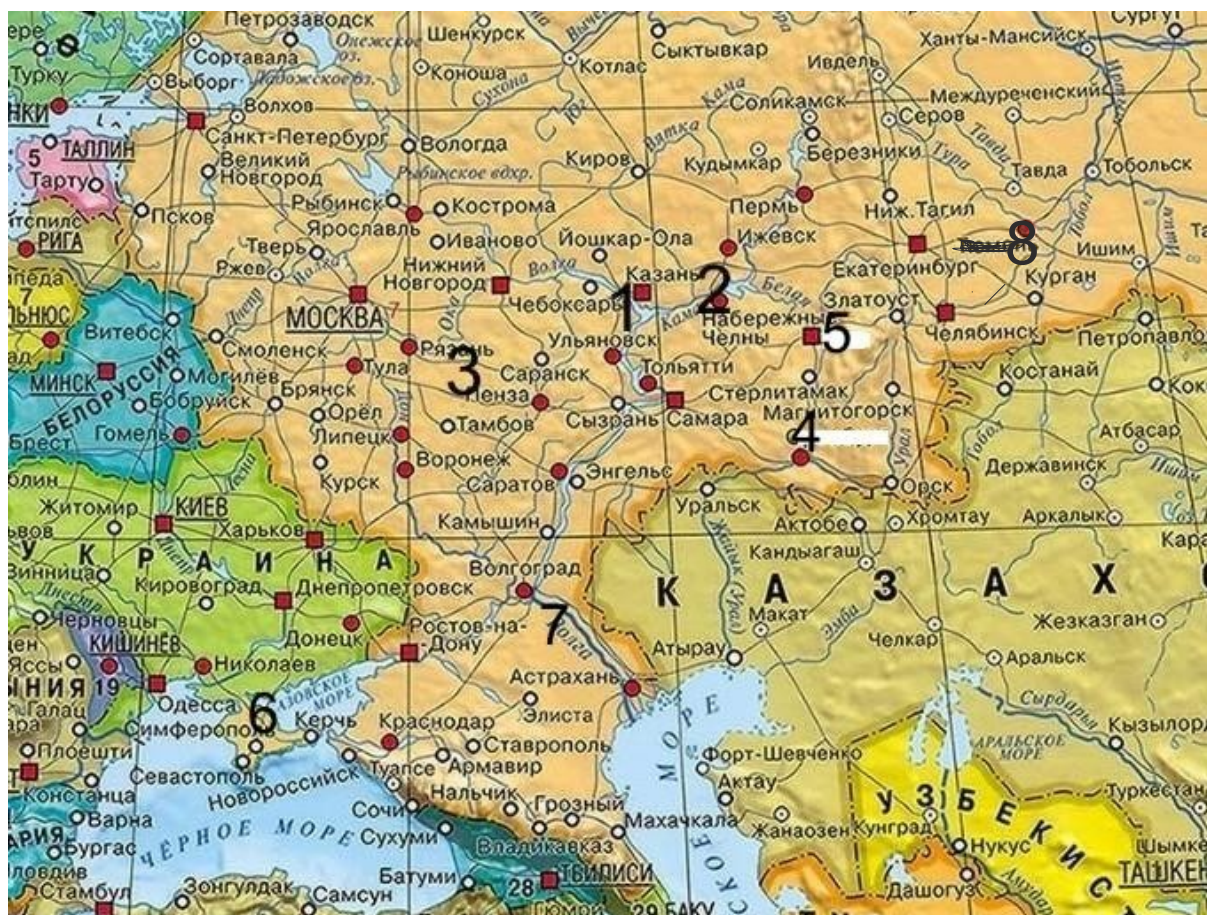
А) 	Б) 
В)	Г)



Ответ:

А.	
Б.	
В.	
Г.	
Д.	

Задание 13. Установите соответствие между гербами и цифровыми обозначениями их местоположения на карте. Обратите внимание на то, что среди цифровых обозначений есть лишние. 2 балла за правильный ответ. Если город, область либо ханство указано неправильно, ответ не оценивается. *Максимум – 10 баллов.*



Ответ:

Герб	Местоположение на карте

Задания 14. Определите пропущенные в тексте названия, слова, имена, цифры, обозначенные порядковыми номерами. Максимум – 8 баллов.

На территории Татарстана развернулась большая подготовительная работа по формированию новых воинских частей.

Всего за годы войны из Татарстана на решающие участки фронта было направлено (1 – кол-во) стрелковых дивизий.

Тяжелое положение на фронте потребовало проведение оборонительных работ. На территории Татарстана оборонительные сооружения располагались полукольцом вокруг Казани. Отсюда оно получило название – (2 - название).

Первым кавалером Золотой (3 – название медали) в республике стал уроженец Казани, майор Ф.А. Баталов.

Навсегда сохранится в памяти народа подвиг защитников Брестской крепости. Среди них был и сын татарского народа – уроженец Пестречинского района, майор (4 - имя). Он руководил обороной Восточного форта крепости.

Небывалую храбрость и мужество показали в боях летчики. Золотыми буквами в истории вписано имя (5 - имя) – летчика авиационного штурмового полка. Он – единственный в Татарстане, кто был удостоен звания Героя Советского Союза дважды. На равных с мужчинами воевали женщины. Одна из них Герой Советского Союза Магуба Сыртланова. Летчиц 46-го Таманского авиационного полка немцы прозвали (6 - название) за их мужество и фанатизм.

Непреклонную нестигаемость продемонстрировали всему миру татарские подпольщики, активно проводившие антифашистскую агитацию среди узников в лагерях для военнопленных. Группа Гайнана Курмаша и Мусы Джалиля была одной из таких. Муса Джалиль автор цикла стихотворений (7 -

название), написанный им в тюрьме. Вместе они не допустили планов гитлеровцев по использованию созданных в легион (8 – название легиона) представителей народностей Поволжья.

Правительство высоко оценило подвиги защитников Отечества. По количеству Героев Советского Союза татары занимают 4-е место после русских, украинцев и белорусов.

Ответ:

1.	5.
2.	6.
3.	7.
4.	8.

Задание 15. Ответьте на вопросы, связанными с важными событиями в истории татарского народа 2023 года. Максимум – 4 балла.

15.1.245 лет назад родился известный педагог, просветитель, ученый. Происходил из казанского татарского рода, представители которого выступали в трех поколениях преподавателями татарского языка в Казани. Преподавал в первой Казанской мужской гимназии, Казанском университете. Он первый из татар удостоен звания адъюнкта университета. Назовите его имя.

Ответ: _____

15.2. 145 лет назад родился один из лидеров татарского национального движения, государственный деятель Турции, тюрколог, юрист. Учился на юридическом факультете Парижского университета. Депутат II и III Государственной думы от Казанской губернии. На открытии национального парламента в Казани был избран председателем МиллэтМеджлиси и национального правительства – Милли Идаре, что явилось пиком его политической деятельности в России. Являлся депутатом Национального собрания Турции. Профессор юридического факультета Стамбульского университета. Назовите его имя.

Ответ: _____

16. Развернутый письменный ответ. Максимум – 30 баллов.

Выберите одну из ниже приведенных тем и напишите сочинение-эссе. Обоснуйте выбор темы, постарайтесь высказать и аргументировать свою позицию, также приведите различные точки зрения по данному вопросу. В работе используйте исторические факты и термины.

Ваше эссе будет оцениваться по следующим критериям.

16.1. Постановка проблемы и задач (до 5 баллов).

1) Постановка проблемы (до 2 баллов).

2) Постановка задач (до 3 баллов).

16.2. Раскрытие двух задач (до 10 баллов).

Каждая из двух задач оценивается в 5 баллов.

1) Грамотность использования исторических фактов и терминов (до 2 баллов).

2) Аргументированность авторской позиции (до 3 баллов).

16.3. Знание различных точек зрения по избранной теме (до 5 баллов).

16.4. Творческий характер восприятия темы, её осмысления (до 5 баллов).

16.5. Выводы (до 5 баллов).

Выдающиеся личности татарского народа

Татаро-русские отношения в XV веке

Татары в заграничных походах 1813-1814 годов

Конфессиональная политика Петра I и Екатерины II

Исторические памятники Казани

Участие татар в социальных протестах XVIII века

Казанский университет и его роль в развитии просвещения народов Поволжья

Традиционные наряды татар и народов Поволжья

Культура и традиции народов Поволжья